

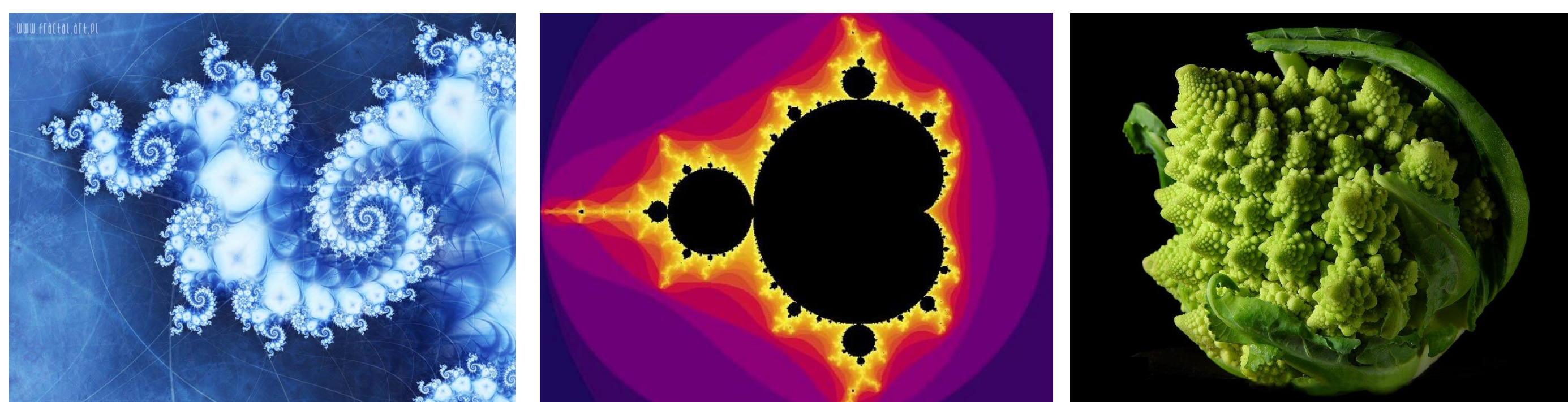
OS “FANTASMAS MATEMÁTICOS” DE DIMENSÕES FRACIONÁRIAS

PATRICIO, Geovany Fernandes (Bolsista PET); MORAIS FILHO, Daniel C. de (Orientador)

Universidade Federal de Campina Grande
geovany@dme.ufcg.edu.br; daniel@dme.ufcg.edu.br

INTRODUÇÃO

É possível obter uma região fechada de área finita e perímetro ilimitado? Há objetos de dimensões fracionárias que estão em “algum mundo” entre \mathbb{R} e \mathbb{R}^2 ? As respostas para estas perguntas é sim, e para respondê-las vamos recorrer a objetos matemáticos estranhos, mas interessantes, chamados fractais. Bem, o que é um fractal? Esta palavra foi criada por Benoit Mandelbrot (1924-2010) para descrever um objeto geométrico que, sem entrarmos em detalhes, nunca muda o aspecto geométrico de sua estrutura, qualquer que seja a distância de visão.



OBJETIVOS

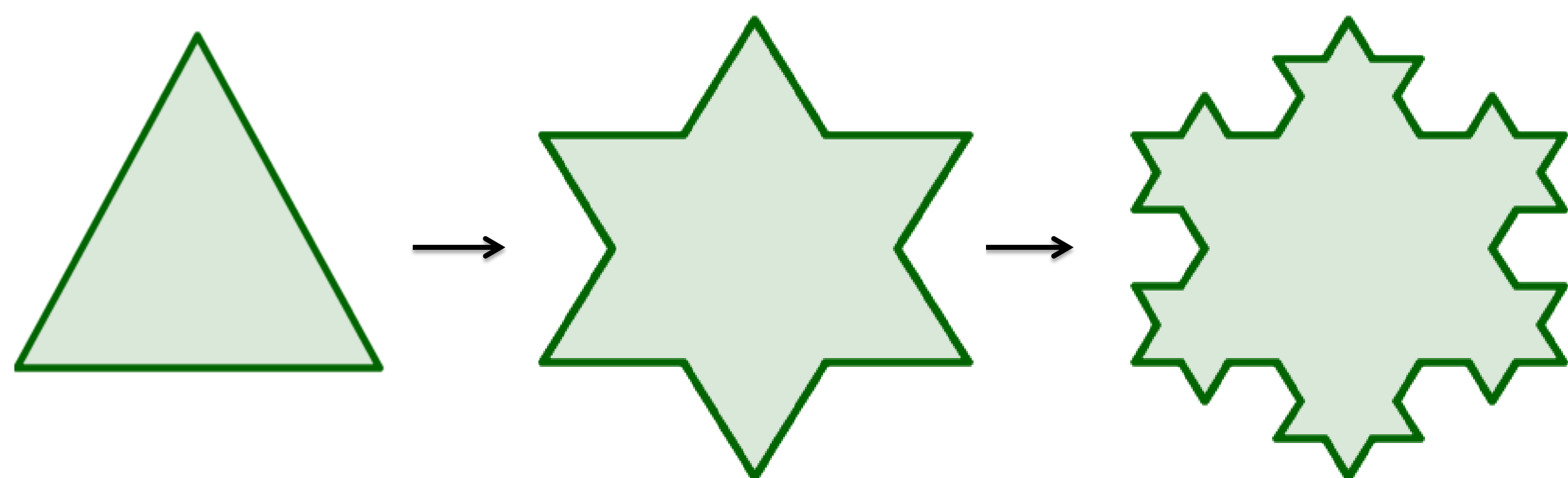
Vamos apresentar alguns tipos de fractais e suas curiosas propriedades. Em particular apresentaremos o Floco de Neve de Koch criado pelo matemático sueco Niels Fabian Helge Von Koch (1870-1924).

METODOLOGIA

Para realização deste trabalho, parte da Iniciação Científica desenvolvida no PET-Matemática-UFCG, além de exposições orais semanais, foram feitas pesquisas em livros, periódicos matemáticos e também na Internet bem como na leitura de artigos relacionados.

RESULTADOS E CONCLUSÕES

O floco de neve de Koch é construído da seguinte maneira: considera-se um triângulo equilátero. Com isso divide-se cada lado em três segmentos iguais, em seguida desenha-se um triângulo equilátero tendo como base o segmento central da divisão com isso geramos três novos triângulos e assim fazemos esses passos com os triângulos existentes repetindo indefinidamente.(figura abaixo)



Por recorrência vamos obter uma expressão para o perímetro de cada região formada após as interações, ou seja,

$$P_0 = 3, P_1 = 3 \cdot 4 \cdot \frac{1}{3}, P_2 = 3 \cdot 4^2 \cdot \frac{1}{9}, \dots, P_n = 3 \cdot \left(\frac{4}{3}\right)^n$$

Dessa forma

$$\lim_{n \rightarrow \infty} 3 \cdot \left(\frac{4}{3}\right)^n = \infty$$

E a área da região?

Recursivamente temos:

$$A_0 = \frac{\sqrt{3}}{4}, A_1 = A_0 + 3 \cdot \frac{1}{9} \cdot \frac{\sqrt{3}}{4}, A_2 = A_1 + 3 \cdot 4 \cdot \frac{1}{9^2} \cdot \frac{\sqrt{3}}{4}, \dots, A_n = A_0 \cdot \left[1 + \frac{3}{4} \cdot \sum_{k=1}^n \left(\frac{4}{9}\right)^k \right]$$

Veja que,

$$\lim_{n \rightarrow \infty} A_n = A_0 \cdot \left[1 + \frac{3}{4} \cdot \sum_{k=1}^{\infty} \left(\frac{4}{9}\right)^k \right] = A_0 \cdot \left[1 + \frac{3}{5} \right] = \frac{8}{5} A_0.$$

Com isso temos uma região de perímetro infinito e área finita.

Exemplos de fractais:

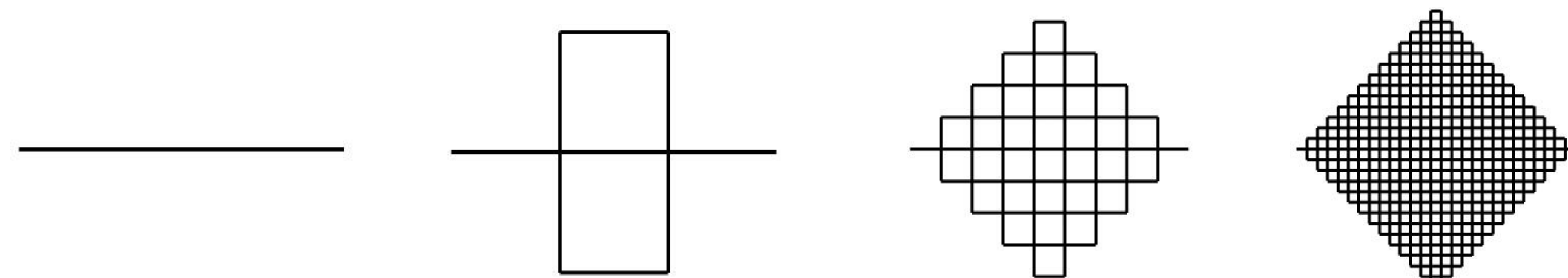
O Triângulo de Sierpinsky (Símbolo do PROFMAT)



O Conjunto de Cantor



Curva de Peano



Dimensão Fractal

Uma das principais propriedades que caracterizam os fractais de acordo com Carreira (2008) é a sua dimensão. Ao contrário do que é observado na Geometria Euclidiana, onde o valor da dimensão representa a dimensionalidade do espaço em que dado objeto está inserido, a dimensão fractal representa o nível de irregularidade de um fractal e é dada por,

$$D = \frac{\log N}{\log \frac{1}{U}}$$

Sendo D a dimensão; N o número de partes em cada etapa da divisão; L o comprimento inicial (ou lado) do objeto ou figura que foi dividida em N parte iguais e U é o comprimento de cada segmento obtido através da divisão.

Dimensões de Alguns fractais:

$$\text{Floco de Neve de Koch: } D = \frac{\log(4)}{\log(3)} \cong 1,262 \dots \quad \text{Triângulo de Sierpinsky: } D = \frac{\log(3)}{\log(2)} \cong 1,584 \dots$$

$$\text{Conjunto de Cantor: } D = \frac{\log(2)}{\log(3)} \cong 0,630 \dots$$

REFERÊNCIAS

SILVA, M. M., SOUZA, W. A.. *Dimensão Fractal*. Revista Eletrônica de Matemática, n. 2, 2010. Disponível em: < www2.jatai.ufg.br/ojs/index.php/matematica > . Acesso em: 2 Ago. 2013.

STEWART, I.. *Almanaque das Curiosidades matemáticas*. Rio de Janeiro : Jorge Zahar Ed., 2009.

SALLUM, E. M.. *Fractais no Ensino Médio*. Revista do Professor de Matemática, v. 57, p. 1-8, 2005.

CARREIRA, A .S.N. et. al. *Fractais*. Disponível em: <http://www.educ.fc.ul.pt/icm/icm2000/icm24/principal.htm> Acesso em 23 Out. 2013.